

# CONCURSO DE BOLSAS PARA 2º E.F.

Data: 23 de setembro de 2023.

Nome: \_\_\_\_\_

## PORTUGUÊS

1. LEIA A CANTIGA A SEGUIR:

A CANOA VIROU  
POIS DEIXARAM ELA VIRAR  
FOI POR CAUSA DE MARIA  
QUE NÃO SOUBE REMAR.

SE EU FOSSE UM PEIXINHO  
E SOUBESSE NADAR  
EU TIRAVA MARIA  
DO FUNDO DO MAR.



A) QUAL É O ANIMAL QUE APARECE NA CANTIGA?

\_\_\_\_\_

B) O QUE ACONTECE COM A CANOA NA CANTIGA ACIMA? FAÇA UM X NA

RESPOSTA:





A CANOA AFUNDOU
A CANOA SE ENCHEU DE ÁGUA
A CANOA VIROU

C) HÁ UM NOME NA CANTIGA. ESCREVA-O ABAIXO:

---

D) CIRCULE AS VOGAIS DESSE NOME E FAÇA UM X NAS CONSOANTES.

2. VAMOS ORGANIZAR O NOME DAS FRUTAS ABAIXO EM ORDEM ALFABÉTICA?  
ESCREVA-OS NA ORDEM CORRETA NAS LINHAS ABAIXO.





 abacaxi	 morango	 cereja	 melancia
--	--	--	---

1. \_\_\_\_\_
2. \_\_\_\_\_
3. \_\_\_\_\_
4. \_\_\_\_\_

3. SEPRE AS SÍLABAS DAS PALAVRAS E, EM SEGUIDA, COLOQUE SUA QUANTIDADE.

PALAVRA	SEPARAÇÃO DE SÍLABAS	QUANTIDADE DE SÍLABAS
RINOCERONTE		
ELEFANTE		
ARARA		
BURRO		

**4. ESCREVA OS NOMES DAS IMAGENS ABAIXO.**

 <p>_____</p>	 <p>_____</p>
 <p>_____</p>	 <p>_____</p>

**5. A FUNÇÃO DE UMA LEGENDA É DAR INFORMAÇÕES QUE AJUDAM NA LEITURA DE UM TEXTO. É UMA FRASE CURTA, QUE DESCREVE O QUE ESTÁ REPRESENTADO NUMA IMAGEM.**

**A) CIRCULE A IMAGEM QUE SE RELACIONA COM A LEGENDA A SEGUIR.**

**Os índios fabricam suas próprias armas para caçar.**



**B) CRIE UMA LEGENDA / FRASE PARA A IMAGEM ABAIXO.**



















---













---

# MATEMÁTICA

1. OBSERVE A TABELA COM ATENÇÃO PARA REALIZAR AS ATIVIDADES PROPOSTAS.

1	2	3	4	5	6		8		10
11		13	14	15		17		19	
	22	23		25	26	27	28	29	30
31		33	34		36	37	38		40
	42		44	45	46		48		50

A) REGISTRE O NUMERAL QUE ESTÁ ESCONDIDO DE ACORDO COM A SUA FIGURA:

B) LEIA OS NÚMEROS POR EXTENSO, LOCALIZE-OS NA TABELA E FAÇA O QUE SE PEDE:

- \* TRINTA E QUATRO, FAÇA UM X;
- \* QUINZE, FAÇA UM CÍRCULO;
- \* VINTE E NOVE, FAÇA UM QUADRADO;
- \* QUARENTA E OITO, FAÇA UM TRIÂNGULO.

2. VEJA A IMAGEM DOS SAQUINHOS DE BALAS. CADA SAQUINHO TEM UM NÚMERO QUE MOSTRA A QUANTIDADE DE BALAS.



A) AGORA, MARQUE ABAIXO COM UM **X**, O NÚMERO DA **MAIOR** QUANTIDADE DE BALAS DOS SAQUINHOS.

( ) 40

( ) 45

( ) 19

( ) 32

B) VEJA AS FIGURAS DAS CRIANÇAS. AS CRIANÇAS ESTÃO PULANDO CORDA EM UM CAMPEONATO. OBSERVE A QUANTIDADE DE SALTOS DE CADA UMA DELAS.



MARQUE A ALTERNATIVA QUE INDICA A CRIANÇA QUE DEU **MENOS** SALTOS NO CAMPEONATO DE PULAR CORDA.

( ) ANA

( ) CAIO

( ) PEDRO

( ) RITA

**3. RESOLVA AS SITUAÇÕES PROBLEMA:**

**A) NINA TINHA 7 PIRULITOS. HOJE GANHOU OUTROS 6 PIRULITOS.**



COM QUANTOS PIRULITOS NINA FICOU? \_\_\_\_\_ .

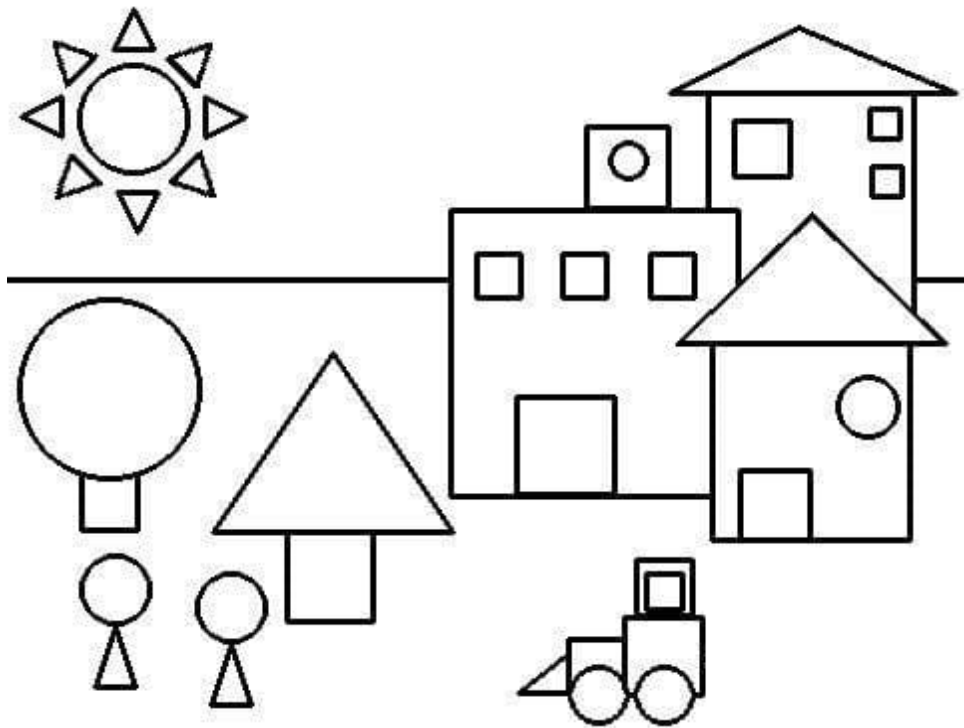
**B) LAURA TINHA 13 LIVROS E SEPAROU 5 PARA DOAÇÃO.**



COM QUANTOS LIVROS LAURA FICOU DEPOIS DA DOAÇÃO? \_\_\_\_\_ .

**VAMOS FALAR SOBRE AS FORMAS GEOMÉTRICAS PLANAS E ESPACIAIS!!!**

**4. OBSERVE AS FIGURAS GEOMÉTRICAS PLANAS QUE APARECEM NO DESENHO, E FAÇA O QUE SE PEDE:**



AGORA, CONTE AS FIGURAS GEOMÉTRICAS E COMPLETE A TABELA COM AS QUANTIDADES CORRESPONDENTES:

FORMA GEOMÉTRICA	QUANTIDADE NÚMERO	QUANTIDADE ESCRITA POR EXTENSO
CÍRCULOS		
RETÂNGULOS		
TRIÂNGULOS		
QUADRADOS		

5. OBSERVE AS IMAGENS PARA RESPONDER AS QUESTÕES:

A) GABRIEL VAI COMEMORAR SEU ANIVERSÁRIO E COMPROU O SEGUINTE BOLO:



MARQUE A ALTERNATIVA QUE INDICA O FORMATO DO BOLO DE ANIVERSÁRIO DE GABRIEL, DE ACORDO COM O SÓLIDO GEOMÉTRICO QUE ELE LEMBRA.

- ) CONE
- ) CUBO
- ) CILINDRO
- ) BLOCO RETANGULAR

B) OBSERVE A IMAGEM A SEGUIR.



MARQUE COM UM X O NOME DO SÓLIDO GEOMÉTRICO QUE A IMAGEM REPRESENTA.

- ) CILINDRO
- ) BLOCO RETANGULAR
- ) CONE
- ) ESFERA

C) OBSERVE OS OBJETOS QUE BIA SEPAROU PARA DOAR.



QUAL DESSES ITENS LEMBRA O FORMATO DE UM **CILINDRO**?

- ) CAIXA DO JOGO DE DAMAS
- ) BOLA DE FUTEBOL
- ) EMBALAGEM DO PEGA VARETAS
- ) DADO



**D) OBSERVE A IMAGEM A SEGUIR.**



**MARQUE COM UM X O NOME DO SÓLIDO GEOMÉTRICO QUE A IMAGEM REPRESENTA.**

- CILINDRO
- BLOCO RETANGULAR
- CUBO
- ESFERA

**E) OBSERVE A IMAGEM A SEGUIR.**



**MARQUE COM UM X O NOME DO SÓLIDO GEOMÉTRICO QUE A IMAGEM REPRESENTA.**

- CILINDRO
- CONE
- CUBO
- PIRÂMIDE